














W pewnym sklepie sprzedawano owoce na sztuki. Wszystkie owoce tego samego gatunku, np. jabłka, kosztowały w tym sklepie po tyle samo. Pierwszy klient kupił dwa jabłka i dwie gruszki i zapłacił 10 zł. Drugi kupił jabłko oraz dwie gruszki i zapłacił 7 zł. A trzeci kupił dwie gruszki oraz kiść winogron i zapłacił 9 zł. Jaka była cena tych owoców?

Cennik:

1		kosztuje
1		kosztuje
1		kosztuje

1. Na rysunku przedstawiono zakupy trzech klientów z zagadki powyżej.

				10 zł
				7 zł
				9 zł

a) O ile więcej zapłacił pierwszy klient od drugiego?

b) A co więcej kupił?









c) To ile kosztowało jabłko?

d) Ile zatem kosztowały dwie gruszki?




e) Czy potrafisz już uzupełnić cennik? Zrób to.

2. Kolejna zagadka o kupowaniu owoców na sztuki – od razu w postaci rysunku.

Rozwiąż ją i uzupełnij cennik.

			5 zł
			5 zł
			4 zł

Cennik:

1		kosztuje
1		kosztuje
1		kosztuje




1. Rozwiąż zagadkę i uzupełnij cennik.

W pewnym sklepie sprzedawano owoce na sztuki. Wszystkie owoce tego samego gatunku, np. jabłka, kosztowały w tym sklepie po tyle samo.

Pierwszy klient kupił dwa jabłka i dwie gruszki i zapłacił 8 zł. Drugi kupił cztery gruszki i dwa jabłka, a jego zakupy kosztowały 14 zł.

Trzeci kupił dwie kiście winogron, gruszkę i jabłko i zapłacił 12 zł. Jaka była cena tych owoców?

Cennik:

1		kosztuje
1		kosztuje
1		kosztuje

Ile one mogą kosztować?



2. Wymyśl podobną zagadkę. Sprawdź, czy na pewno daje się rozwiązać.

.....

.....

.....

.....

.....












.....

.....


.....


1. Rozwiąż zagadkę i uzupełnij cennik.


W sklepie sprzedawano owoce na sztuki.
Oto zakupy trzech klientów.
Jaka była cena tych owoców?


				5,50 zł	
					10 zł
				6 zł	

Cennik:

1  kosztuje

1  kosztuje

1  kosztuje

Od czego zacząć? 

2. Rozwiąż zadanie.

Trzy czekolady i trzy batony kosztują razem 15 zł.
A za cztery takie same czekolady i trzy takie same batony trzeba zapłacić 18 zł.
Ile kosztuje czekolada, a ile baton?

Od czego zacząć? 