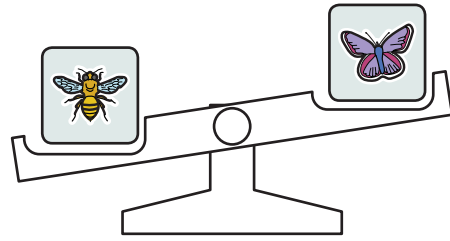
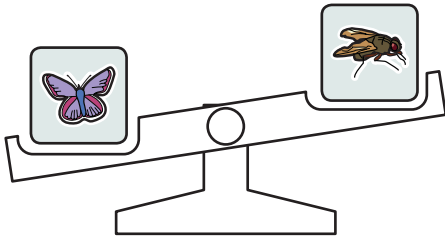






1. Wagi pokazują, który z owadów jest cięższy.



Co z tego wynika? Zakreśl kółkiem właściwą odpowiedź.

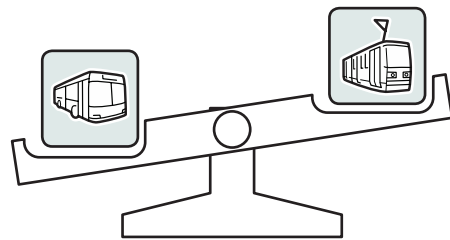
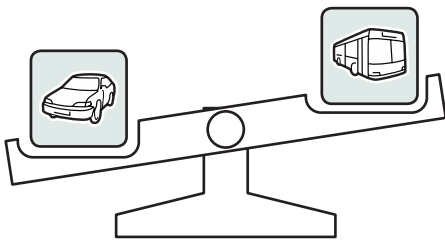
A.  jest cięższy od 

C.  jest cięższy od 


B.  jest cięższy od 



D.  jest cięższy od 



2. Wagi pokazują, który z pojazdów może jechać szybciej. Szybszy jest ten, który znajduje się na niższej szalce wagi.





Co z tego wynika?

A.  jest szybszy niż 

C.  jest szybszy niż 

B.  jest szybszy niż 

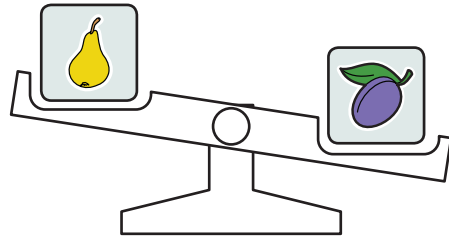
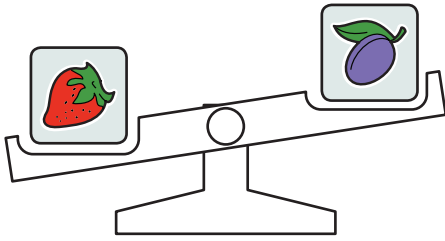
D.  jest szybszy niż 

3. Gruszki kosztują więcej niż jabłka, a jabłka więcej niż porzeczki. Które owoce są najtańsze, a które najdroższe? Możesz pomóc sobie rysunkiem.

Najtańsze



Najdroższe



1. Wagi pokazują ceny owoców.





Co z tego wynika?

A.  kosztuje mniej niż 

C.  kosztuje więcej niż 

B.  kosztuje więcej niż 

D.  kosztuje mniej niż 

2. W czasie zawodów w skoku w dal Janek skoczył dalej od Marcina. Dalej od Janka skoczył Karol. Wszyscy trzej byli najlepszymi zawodnikami w tej konkurencji. Który z nich zdobył pierwsze, który drugie, a który trzecie miejsce w tych zawodach?

I miejsce

II miejsce

III miejsce

3. Jedno ciastko kosztuje więcej niż 2 zł. 2 zł wystarcza na kupno czekolady. Co z tego wynika?

a) Czy czekolada jest droższa od ciastka?

 TAK

 NIE


b) Ile może kosztować ciastko, a ile czekolada? Podaj przykłady.

ciastko:

czekolada:

4. Kasia jest starsza, a Basia młodsza od Janka, Marysia jest młodsza od Janka, ale starsza od Basi. Wpisz pierwsze litery imion dzieci od najstarszego do najmłodszego.

1. Wagi pokazują, które zwierzęta pływają szybciej. Na szalce niższej są zwierzęta, które pływają z większą prędkością.



Co z tego wynika? Które z tych zwierząt pływa najszybciej, a które najwolniej?

Najszybciej pływa

Najwolniej pływa

2. Symbolicznie zapisano długości życia niektórych zwierząt:



< 5 lat



< 15 lat



< 20 lat



< 50 lat

- a) Odczytaj te zapisy. Zaznacz, które z tych zwierząt może żyć najdłużej.

- b) Porównaj maksymalne długości życia tych zwierząt. Wstaw w miejsce kropek między obrazkami znaki „<” lub „>”.



.....



.....



.....



.....



3. Ania, Marysia, Zosia i Julka zbierały kasztany. Zosia zebrała więcej niż Marysia, ale mniej niż Ania, Ania zebrała więcej niż Zosia, ale mniej niż Julka. Która z dziewcząt zebrała najwięcej kasztanów, a która najmniej?

.....

4. Staś jest wyższy od Jasia, ale niższy od Tomka. Tomek jest wyższy od Jasia, ale niższy od Marcina. Wpisz pierwsze litery imion chłopców od najniższego do najwyższego.