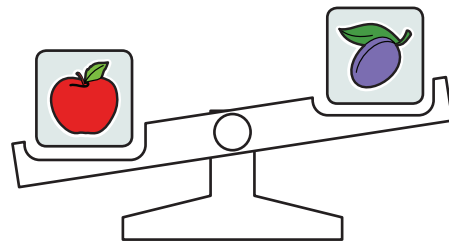
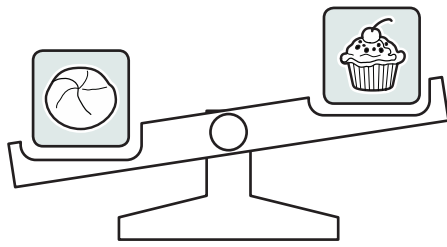


1. Przyjrzyj się wagom. Co jest cięższe? Otocz kółkiem prawidłową odpowiedź.

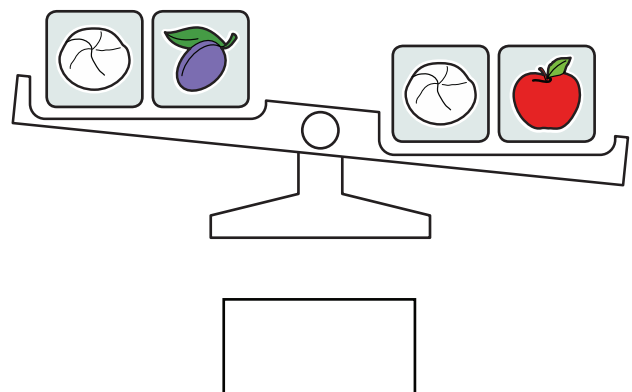





Bułka czy ciastko?  


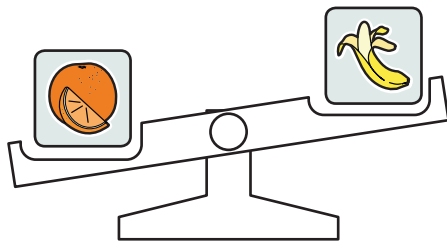
Jabłko czy śliwka?  

2. Co z tego wynika?

Popatrz na odpowiedzi. Jeżeli zgadzasz się z odpowiedzią, to napisz TAK, jeżeli się nie zgadzasz, to napisz NIE.



Na dwóch wagach stoją obrazki z owocami. Na niższej szalce są owoce, które kosztują więcej.



1. Które owoce są droższe? Zaznacz.

Pomarańcza czy banan?


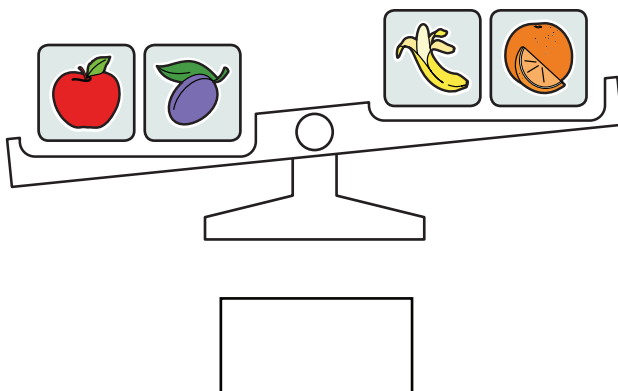




Jabłko czy śliwka?


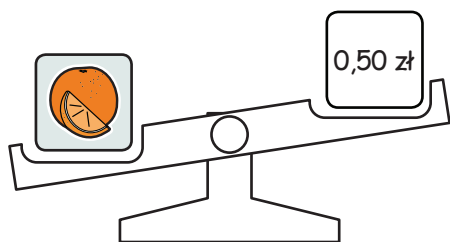


2. Co z tego wynika? Popatrz na odpowiedzi.

Jeżeli zgadzasz się z odpowiedzią, to napisz TAK, jeżeli się nie zgadzasz, to napisz NIE.







1. Na dwóch wagach stoją obrazki z owocami i ceny. Większa wartość jest na niższej szalce.



Co z tego wynika? Przeczytaj odpowiedzi.

Jeżeli zgadzasz się z odpowiedzią, to napisz TAK, jeżeli się nie zgadzasz, to napisz NIE.



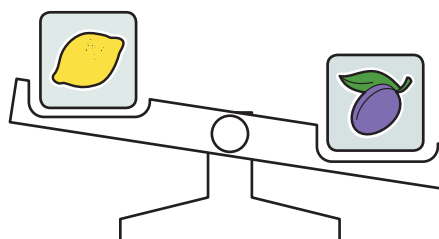

Jabłko jest droższe od pomarańczy

Dwa jabłka kosztują mniej niż pomarańcza

Cena pomarańczy i jabłka różni się o więcej niż 0,30 zł

Pomarańcza i jabłko razem kosztują więcej niż 0,50 zł

2. Na wagach stoją obrazki z owocami i cenami. Większa wartość jest na niższej szalce.



Odczytaj, co przedstawiają te rysunki.

Napisz, co z tego wynika. Staraj się wyciągnąć możliwie najwięcej wniosków.

.....

.....

.....

.....

.....

.....