


1. Te obrazki są ułożone zgodnie z pewną zasadą. Tylko jeden z dodatkowych obrazków pasuje do pola ze znakiem zapytania. Który? Znajdź go i zaznacz. Obok napisz, dlaczego to właśnie ten obrazek pasuje?

a)



.....




.....

.....



.....

b)



.....




.....

.....



.....

c)



.....



.....

.....



.....

1. Te liczby są ułożone zgodnie z pewną zasadą. Tylko jedna z dodatkowych liczb pasuje do pola ze znakiem zapytania. Która? Znajdź ją i zaznacz. Obok uzasadnij, dlaczego to właśnie ta liczba pasuje.

a)

|    |    |    |
|----|----|----|
| 1  | 3  | 5  |
| 7  | 9  | 11 |
| 13 | 15 | ?  |

2

.....

17

.....

19

.....

.....

b)

|   |   |   |
|---|---|---|
| 3 | 4 | 5 |
| 4 | 5 | 6 |
| 5 | 6 | ? |

7

.....

9

.....

11

.....

.....

c)

|   |    |   |
|---|----|---|
| 2 | 4  | 6 |
| 3 | 6  | 9 |
| 5 | 10 | ? |

5

.....

12

.....

15

.....

.....

d)

|   |    |   |
|---|----|---|
| 2 | 5  | 8 |
| 4 | 2  | 3 |
| 8 | 10 | ? |

24

.....

5

.....

80

.....

.....

1. Te obrazki są ułożone zgodnie z pewną zasadą. Tylko jeden z dodatkowych obrazków pasuje do pola ze znakiem zapytania. Zaznacz go i wyjaśnij, dlaczego to on pasuje.

a)



.....




.....



.....

b)



.....



.....



.....

2. Te liczby są ułożone zgodnie z pewną zasadą. Tylko jedna liczba pasuje do pola ze znakiem zapytania. Zapisz ją i wyjaśnij, dlaczego to właśnie ta liczba pasuje.

a)

|    |    |    |  |
|----|----|----|--|
| 5  | 10 | 15 |  |
| 13 | 18 | 23 |  |
| 21 | 26 | ?  |  |

.....

.....

.....

b)

|   |    |   |  |
|---|----|---|--|
| 2 | 4  | 6 |  |
| 3 | 5  | 7 |  |
| 6 | 20 | ? |  |

.....

.....

.....

1. Te liczby są ułożone zgodnie z pewną zasadą. Tylko jedna liczba pasuje do pola ze znakiem zapytania. Która? Zapisz ją i wyjaśnij, dlaczego to właśnie ta liczba pasuje.

a)

|    |    |    |                      |
|----|----|----|----------------------|
| 23 | 31 | 44 |                      |
| 5  | 18 | 26 |                      |
| 18 | 13 | ?  | <input type="text"/> |

.....

.....

.....

.....

b)

|    |   |   |                      |
|----|---|---|----------------------|
| 15 | 5 | 3 |                      |
| 24 | 6 | 4 |                      |
| 32 | 4 | ? | <input type="text"/> |

.....

.....

.....

.....

c)

|   |   |   |                      |
|---|---|---|----------------------|
| 1 | 2 | 3 |                      |
| 2 | 4 | 6 |                      |
| 3 | 4 | ? | <input type="text"/> |

.....

.....

.....

.....

d)

|   |    |    |                      |
|---|----|----|----------------------|
| 2 | 6  | 14 |                      |
| 4 | 8  | 16 |                      |
| 7 | 11 | ?  | <input type="text"/> |

.....

.....

.....

.....