






1. Uzupełnij brakujące liczby zgodnie z poleceniem z zabawy w *Żywe liczby*.


a)  Łączymy się w pary tak, aby suma w parze wyniosła 10.





b)  Łączymy się w pary tak, aby różnica w parze była równa 3.




c)  Łączymy się w pary tak, aby jedna liczba była o 3 większa od drugiej.





d)  Łączymy się w pary tak, aby jedna liczba była o 3 mniejsza od drugiej.





1. Uzupełnij brakujące liczby zgodnie z poleceniem z zabawy w *Żywe liczby*.


a)  Łączymy się w pary tak, aby suma w parze wyniosła 24.





b)  Łączymy się w pary tak, aby różnica w parze była równa 3.



c)  Łączymy się w pary tak, aby jedna liczba była o 3 większa od drugiej.



d)  Łączymy się w pary tak, aby jedna liczba była o 3 mniejsza od drugiej.



1. Odgadnij, jakie polecenie padło w zabawie w *Żywe liczby*. Wpisz, zgodnie z nim, brakujące liczby.

a)

?

3 5 13 15 8 6

4 16 19 7

b)

?

3 8 13 2 8 11

4 16 19 7

c)

?

3 6 13 2 8 1

4 16 19 7