




1. a) Zaznacz, na którym polu planszy obok można położyć żeton po wylosowaniu znaczka  b) Napisz, co łączy te znaczki – wylosowany i zaznaczony przez Ciebie.


.....  
 .....



2. Kuba wylosował  i położył żeton na polu planszy ze znaczkiem . Napisz, jaką mógł podać zasadę połączenia obu znaków.


.....  
 .....

3. a) Zaznacz pola, na których położenie żetonu pozwoli wygrać grę.

- b) Gracz wylosował . Opisz zasadę połączenia tego znaczka i znaczka na planszy, która pozwoli wygrać grę.

.....  
 .....



4. Gracz wylosował . Podaj zasadę połączenia tego znaczka i znaczka na planszy, która pozwoli wygrać grę.

.....  
 .....



1. a) Zaznacz, na którym polu planszy obok można położyć żeton po wylosowaniu znaczka  
b) Napisz, co łączy te znaczki – wylosowany i zaznaczony przez Ciebie.



.....  
 .....

2. Kuba wylosował i położył żeton na polu planszy ze znaczkiem Napisz, jaką mógł podać zasadę połączenia obu znaków.

.....  
 .....


3. a) Zaznacz pola, na których położenie żetonu pozwoli wygrać grę.



- b) Gracz wylosował . Opisz zasadę połączenia tego znaczka i znaczka na planszy, która pozwoli wygrać grę.



.....  
 .....

4. Gracz wylosował . Podaj zasadę połączenia tego znaczka i znaczka na planszy, która pozwoli wygrać grę.



.....  
 .....




1. Kuba wylosował  i położył żeton na polu planszy ze znaczkem . Napisz, jaką mógł podać zasadę połączenia obu znaków.

.....

.....

2. a) Zaznacz pola, na których położenie żetonu pozwoli wygrać grę.




- b) Gracz wylosował . Opisz zasadę połączenia tego znaczka i znaczka na planszy, która pozwoli wygrać grę.



.....

.....

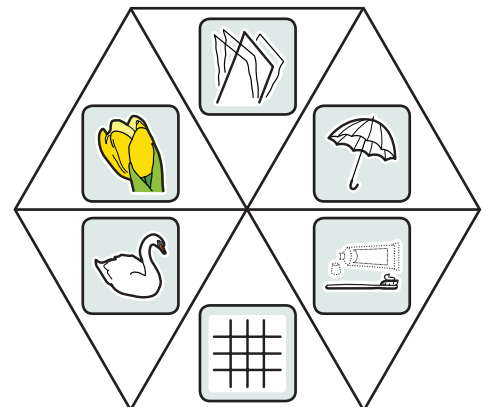
3. Gracz wylosował . Podaj zasadę połączenia tego znaczka i znaczka na planszy, która pozwoli wygrać grę.



.....

.....

4. Kuba położył żeton na znaczku na planszy i powiedział, że ten znaczek z wylosowanym znaczkem łączy woda. Zaznacz, który znaczek mógł wskazać spinacz. Uzasadnij swój wybór.



.....

.....

Czy jeszcze jakiś inny znaczek mógł zostać wylosowany i też pasowałby do podanej przez Kubę zasady? Zaznacz go i uzasadnij to drugie wskazanie.

.....