







Czwórka dzieci rozwiązywała zagadkę:



 ma się tak do , jak  do czego?

Zobacz, jak ją rozwiązywali i co przy tej okazji powiedzieli.

 Ela: Do  Tu dwa owoce, a tu dwa warzywa. Pasuje.

 Adaś: Do  Oba owoce są czerwone, to warzywa też powinny.

 Ania: Do  Truskawka jest dużo mniejsza od jabłka.  
Rzodkiewka jest dużo mniejsza od papryki.

 Jurek: Do  Ważne, żeby wszystko było czerwone.

Która z tych odpowiedzi najbardziej Ci się podoba? A która najmniej?  
Wyjaśnij, dlaczego.

Najbardziej:

.....

.....

.....

.....

Najmniej:

.....

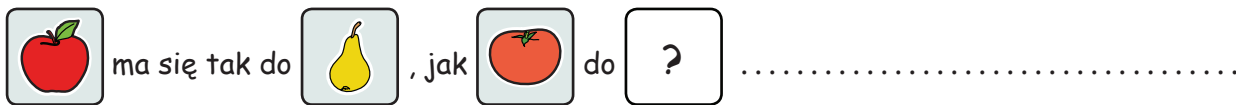
.....

.....

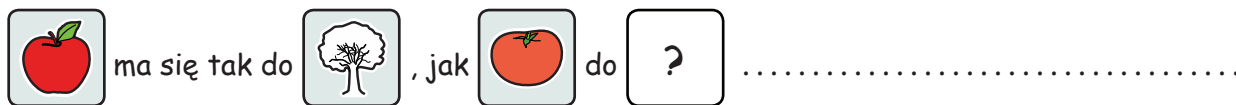
.....

1. Rozwiąż kolejne zagadki. Przy każdym znaku zapytania napisz, jaki obrazek tam pasuje. Niżej wyjaśnij, dlaczego tak uważasz.

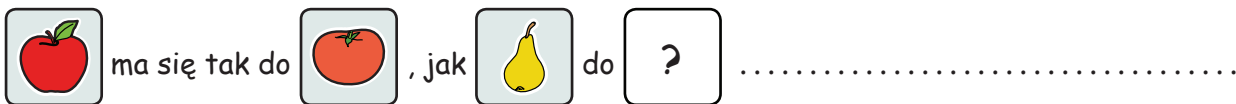
a)



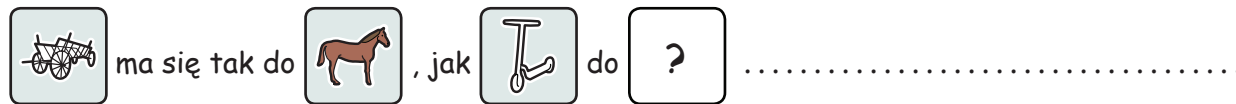
b)



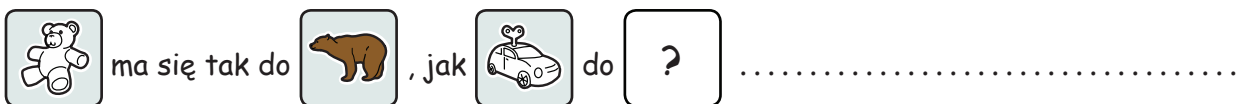
c)



d)

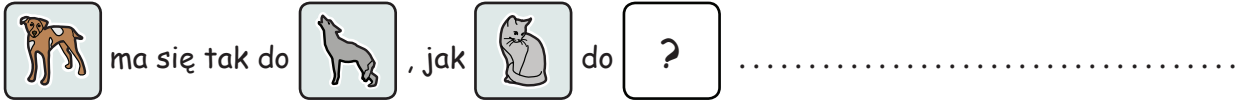


e)



1. Rozwiąż kolejne zagadki. Przy każdym znaku zapytania napisz, jaki obrazek tam pasuje. Niżej wyjaśnij, dlaczego tak uważasz.

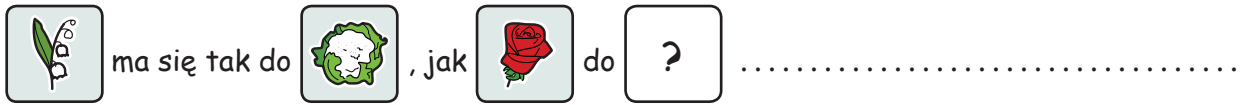
a)



.....

.....

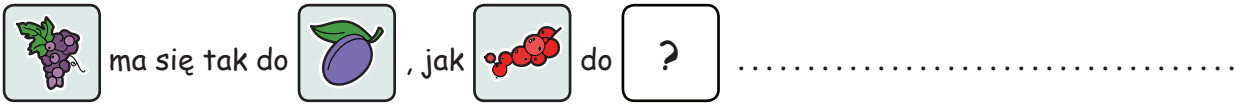
b)



.....

.....

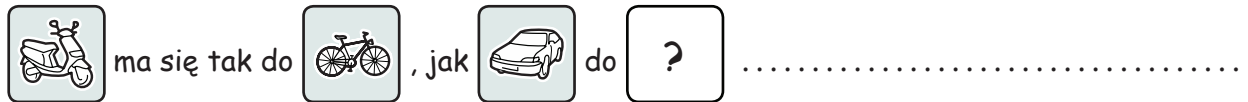
c)



.....

.....

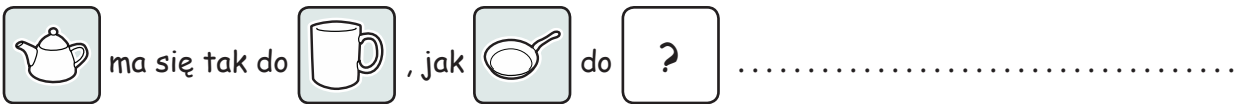
d)



.....

.....

e)

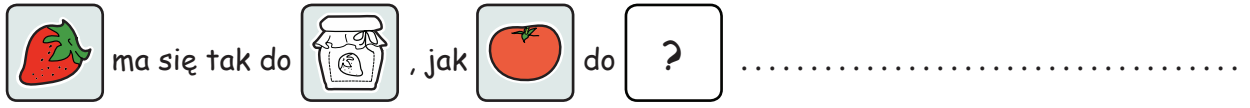


.....

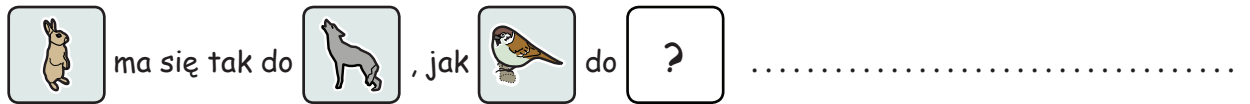
.....

1. Rozwiąż kolejne zagadki. Przy każdym znaku zapytania napisz, jaki obrazek tam pasuje. Niżej wyjaśnij, dlaczego tak uważasz.

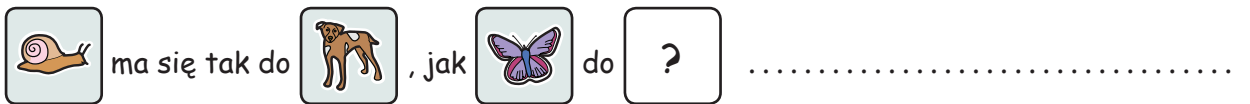
a)



b)

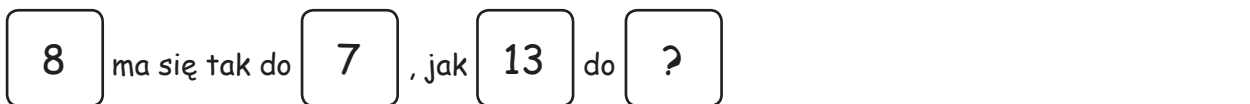


c)

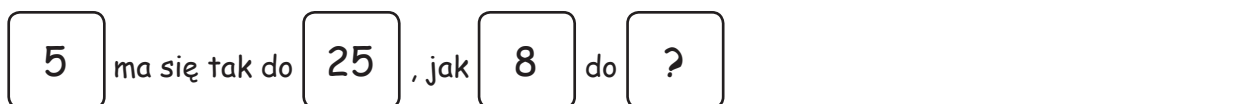


2. Pora na zagadki o liczbach. Rozwiąż kolejne zagadki. W puste pole wpisz liczbę, która tam najlepiej pasuje. Niżej wyjaśnij, dlaczego tak uważasz.


a)



b)



c)



1. Rozwiąż kolejne zagadki. Przy każdym znaku zapytania napisz, jaki obrazek tam pasuje. Niżej wyjaśnij, dlaczego tak uważasz.

a)



ma się tak do



, jak



do



.....

.....

.....

b)



ma się tak do



, jak



do



.....

.....

.....

2. Spróbuj tę samą zagadkę rozwiązać na kilka różnych(!) sposobów.

Za każdym razem wyjaśnij, dlaczego wpisana liczba pasuje jako rozwiązanie zagadki.

a)



ma się tak do



, jak



do



.....

.....

.....

b)



ma się tak do



, jak



do



.....

.....

.....

c)



ma się tak do



, jak



do



.....

.....

.....

d)



ma się tak do



, jak



do



.....

.....

.....