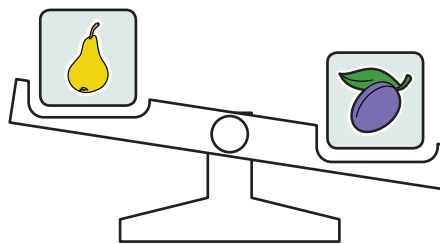
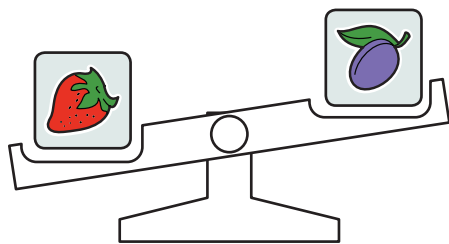




1. Wagi pokazują ceny owoców. Na niższej szalce są owoce droższe.




Co z tego wynika? Zaznacz poprawną odpowiedź:

A.  kosztuje mniej niż 

C.  kosztuje więcej niż 

B.  kosztuje więcej niż 

D.  kosztuje mniej niż 

2. W czasie zawodów w skoku w dal Janek skoczył dalej od Marcina. Dalej od Janka skoczył Karol. Wszyscy trzej byli najlepszymi zawodnikami w tej konkurencji. Który z nich zdobył pierwsze, który drugie, a który trzecie miejsce w tych zawodach?

I miejsce .....

II miejsce .....

III miejsce .....

3. Jedno ciastko kosztuje więcej niż 2 zł. 2 zł wystarcza na kupno czekolady. Co z tego wynika?

a) Czy czekolada jest droższa od ciastka?

TAK

NIE


b) Ile może kosztować ciastko, a ile czekolada? Podaj przykłady.

czekolada: .....

ciastko: .....

4. Kasia jest starsza, a Basia młodsza od Janka, Marysia jest młodsza od Janka, ale starsza od Basi. Wpisz pierwsze litery imion dzieci od najstarszego do najmłodszego.

1. Wagi pokazują, które zwierzęta pływają szybciej. Na szalce niższej są zwierzęta, które pływają z większą prędkością.



Co z tego wynika? Które z tych zwierząt pływa najszybciej, a które najwolniej?

Najszybciej pływa .....

Najwolniej pływa .....

2. Symbolicznie zapisano długości życia niektórych zwierząt:



< 5 lat



< 15 lat



< 20 lat



< 50 lat

- a) Odczytaj te zapisy. Zaznacz, które z tych zwierząt może żyć najdłużej.  
b) Porównaj maksymalne długości życia tych zwierząt. Wstaw w miejsce kropek między obrazkami znaki „<” lub „>”.



.....



.....



.....



.....



3. Ania, Marysia, Zosia i Julka zbierały kasztany. Zosia zebrała więcej niż Marysia, ale mniej niż Ania, Ania zebrała więcej niż Zosia, ale mniej niż Julka. Która z dziewcząt zebrała najwięcej kasztanów, a która najmniej?

.....

4. Staś jest wyższy od Jasia, ale niższy od Tomka. Tomek jest wyższy od Jasia, ale niższy od Marcina. Wpisz pierwsze litery imion chłopców od najniższego do najwyższego.

1. Kasia jest wyższa od Marysi, ale niższa od Ani.

a) Zapisz tę informację, używając symboli „<” lub „>”.

.....

b) Zapisz imiona dziewczynek w kolejności od najwyższej do najniższej.

.....

2. Oto lista kolegów ustawionych w kolejności od najmłodszego do najstarszego.

Karol, Marcin, Janek, Tomek, Kuba, Alek, Szymek, Damian, Franek

a) Porównaj wiek chłopców, wpisując odpowiedni znak : „<” albo „>”.

wiek Szymka ..... wiek Karola

wiek Damiana ..... wiek Franka

wiek Franka ..... wiek Marcina

wiek Tomka ..... wiek Alka

wiek Janka ..... wiek Szymka

b) To, że Marcin jest młodszy od Kuby, ale starszy od Karola można zapisać w następujący sposób: Karol < Marcin < Kuba.

Wyjaśnij, co oznacza zapis: Alek > Kuba > Tomek.

.....

.....

c) Porównaj wiek chłopców, wpisując w miejsce kropek odpowiednie imiona.

..... < Janek < .....

..... < Szymek < .....

Janek < ..... < Kuba

..... > Damian > .....