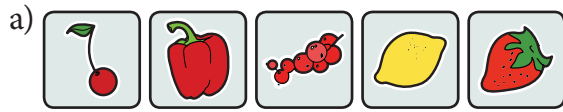


1. Jeden z tych pięciu obrazków nie pasuje do pozostałych. Znajdź go i zaznacz.
Niżej napisz, dlaczego ten właśnie obrazek nie pasuje do reszty.



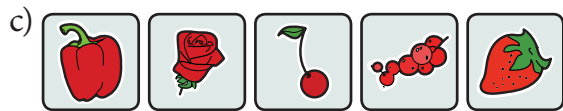
.....

.....



.....

.....



.....

.....



.....


.....



.....


.....

1. Jeden z tych pięciu obrazków nie pasuje do pozostałych. Znajdź go i zaznacz.
Niżej wyjaśnij, dlaczego ten właśnie obrazek nie pasuje do reszty.



.....

.....



.....

.....



.....

.....


2. Jedna z tych pięciu liczb nie pasuje do pozostałych. Znajdź ją i zaznacz.
Obok wyjaśnij, dlaczego właśnie ta liczba nie pasuje do reszty.



.....

.....


.....



.....

.....

.....



.....

.....

.....

1. Jeden z tych pięciu obrazków nie pasuje do pozostałych. Znajdź go i zaznacz.
Niżej uzasadnij, dlaczego ten właśnie obrazek nie pasuje do reszty.



.....

.....



.....

.....

2. Jedna z tych pięciu liczb nie pasuje do pozostałych. Znajdź ją i zaznacz.
Obok uzasadnij, dlaczego właśnie ta liczba nie pasuje do reszty.



.....

.....

.....



.....

.....

.....



.....

.....


.....



.....

.....

.....



.....

.....

.....

1. Jedna z pięciu liczb nie pasuje do pozostałych. Znajdź ją i zaznacz.
Poniżej uzasadnij, dlaczego właśnie ta liczba nie pasuje do reszty.

a)

20	50	90	41	60
----	----	----	----	----

.....

.....

b)

25	53	24	52	65
----	----	----	----	----

.....

.....

c)

64	43	97	86	31
----	----	----	----	----

.....

.....

d)

25	16	81	12	64
----	----	----	----	----

.....

.....

e)

16	18	12	24	20
----	----	----	----	----

.....

.....