

1. a) Zaznacz, na którym polu planszy obok można położyć żeton po wylosowaniu znaczka
b) Napisz, co łączy te znaczki – wylosowany i zaznaczony przez Ciebie.



.....

.....

2. Kuba wylosował i położył żeton na polu planszy ze znaczkiem Napisz, jaką mógł podać zasadę połączenia obu znaków.

.....

.....

3. a) Zaznacz pola, na których położenie żetonu pozwoli wygrać grę.



.....

.....



4. Gracz wylosował Podaj zasadę połączenia tego znaczka i znaczka na planszy, która pozwoli wygrać grę.



.....

.....




1. Kuba wylosował  i położył żeton na polu planszy ze znaczkem . Napisz, jaką mógł podać zasadę połączenia obu znaków.


.....

.....

2. a) Zaznacz pola, na których położenie żetonu pozwoli wygrać grę.



- b) Gracz wylosował . Opisz zasadę połączenia tego znaczka i znaczka na planszy, która pozwoli wygrać grę.



.....

.....



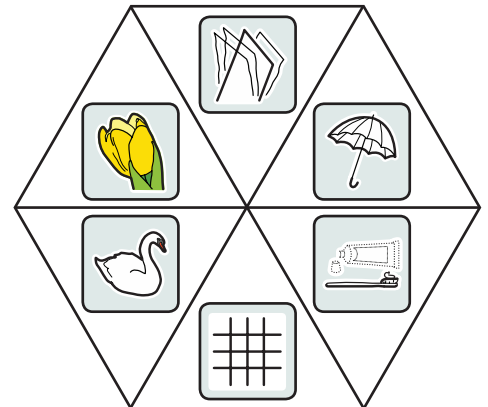
3. Gracz wylosował . Podaj zasadę połączenia tego znaczka i znaczka na planszy, która pozwoli wygrać grę.



.....

.....

4. Kuba położył żeton na znaczku na planszy i powiedział, że ten znaczek z wylosowanym znaczkem łączy woda. Zaznacz, który znaczek mógł wskazać spinacz. Uzasadnij swój wybór.





.....

.....

Czy jeszcze jakiś inny znaczek mógł zostać wylosowany i też pasowałby do podanej przez Kubę zasady? Zaznacz go i uzasadnij to drugie wskazanie.

.....




1. Kuba wylosował  i położył żeton na polu planszy ze znaczkem . Napisz, jaką mógł podać zasadę połączenia obu znaków.


.....

.....

2. a) Zaznacz pola, na których położenie żetonu pozwoli wygrać grę.




- b) Gracz wylosował . Opisz zasadę połączenia tego znaczka i znaczka na planszy, która pozwoli wygrać grę.



.....

.....




3. Gracz wylosował . Podaj zasadę połączenia tego znaczka i znaczka na planszy, która pozwoli wygrać grę.



.....

.....

4. Kuba położył żeton na znaczku na planszy i powiedział, że ten znaczek z wylosowanym znaczkem łączy woda. Zaznacz, który znaczek mógł wskazać spinacz. Uzasadnij swój wybór.



.....

.....

Czy jeszcze jakiś inny znaczek mógł zostać wylosowany i też pasowałby do podanej przez Kubę zasady? Zaznacz go i uzasadnij to drugie wskazanie.

.....