

1. Na podstawie wykresu uzupełnij brakujące dane w tabeli. Pomaluj odpowiednimi kolorami puste słupki wykresu i oznaczenia obok obrazków zwierząt.

Wykres Zwierzęta hodowane przez uczniów z klas IV-VI

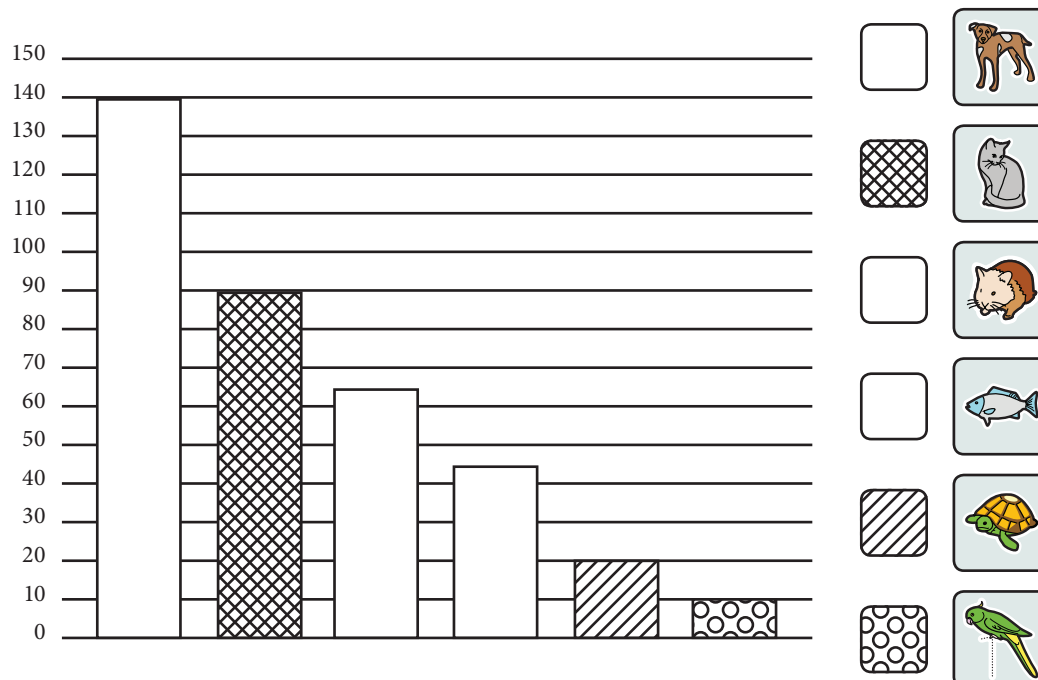


Tabela Zwierzęta hodowane przez uczniów z klas IV-VI

nazwa zwierzątka						
liczba wyborów	65	140		45		

2. Oblicz i uzupełnij zdania, wykorzystując słowa: *więcej*, *mniej*

posiada o dzieci niż

hoduje o dzieci niż

ma razy dzieci niż

3. Oblicz :

Ile razem wszystkich zwierząt mają dzieci w tej szkole?

Których zwierząt jest więcej: kotów i chomików, czy kotów, żółwi i ryb?

.....

1. Na wykresie zamaluj odpowiednimi wzorami puste słupki.

Uzupełnij brakujące dane w tabeli.

Wykres *Ulubione formy spędzania wolnego czasu w klasach IV-VI*

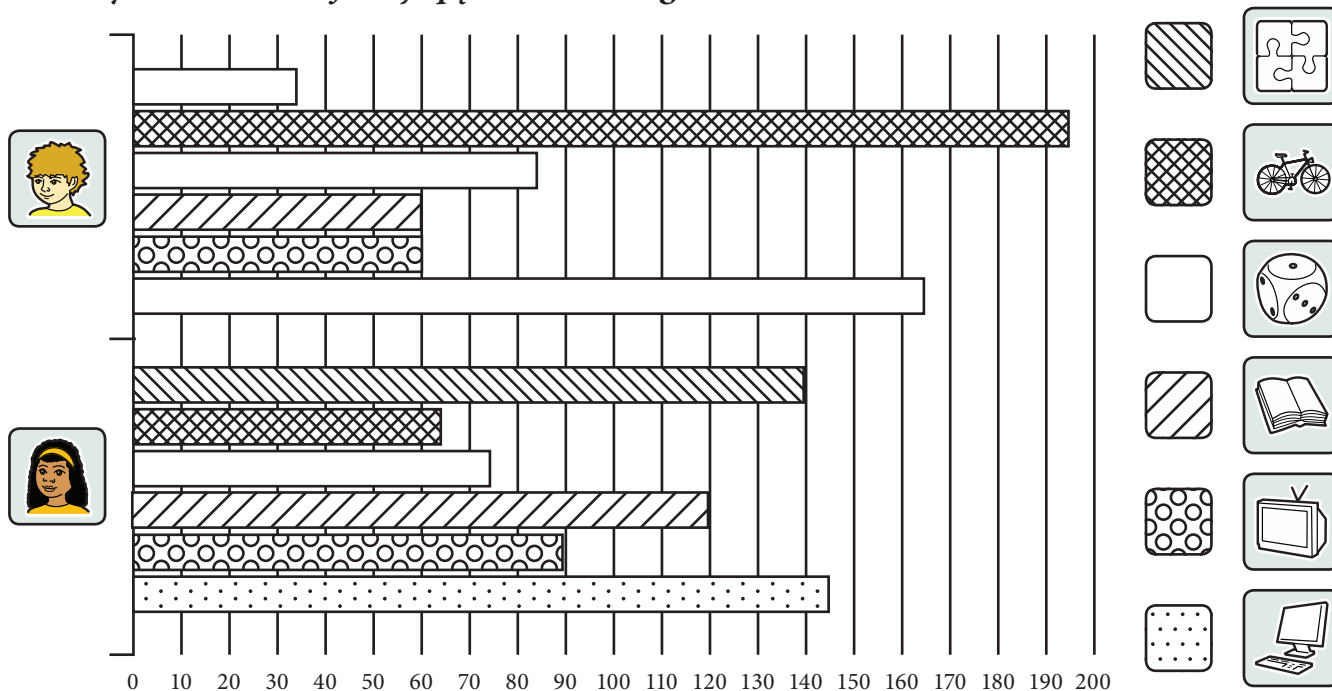


Tabela *Ulubione formy spędzania wolnego czasu w klasach IV-VI*

	Book		Bicycle		Computer		Dice		TV		Puzzle	
liczba wyborów					165							35

2. Uzupełnij zdania:

Dziewczynki najchętniej spędzają wolny czas

a najmniej ich wyborów dotyczy

Chłopcy najbardziej lubią..... a najmniej.....

Najmniejsza różnica pomiędzy wyborami dziewczynek i chłopców dotyczy.....

3. Oblicz i zaznacz kółkiem:


Liczba wyborów jest o 20 mniejsza niż w przypadku

Liczba wyborów jest 3 razy większa niż w przypadku

Taka sama liczba wyborów dotyczy i i

1. Na wykresie zaznacz odpowiednim wzorem słupki.

Wykres Wyjazdy wakacyjne uczniów klas IV-VI



2. Uzupełnij zdania, korzystając z wykresu.



odwiedzi podczas wakacji razy więcej uczniów z klas niż z klas

Tyle samo uczniów z klas pojedzie , co z klas nad 

3. Zaznacz właściwą odpowiedź.

Najmniej uczniów jest w klasach IV V VI

Nad  wyjedzie o 1 uczeń więcej niż nad  i  czy  i 

4. Zaznacz kółkiem zestaw obrazków, który pokazuje miejsca wyjazdów wakacyjnych uczniów w kolejności od najmniejszej do największej liczby wyborów.

