









1. Rozwiąż kolejne zagadki. Przy każdym znaku zapytania napisz, jaki obrazek tam pasuje. Niżej wyjaśnij, dlaczego tak uważasz.





a)

 ma się tak do , jak  do  .....  
 .....  
 .....





b)

 ma się tak do , jak  do  .....  
 .....  
 .....





c)

 ma się tak do , jak  do  .....  
 .....  
 .....

d)

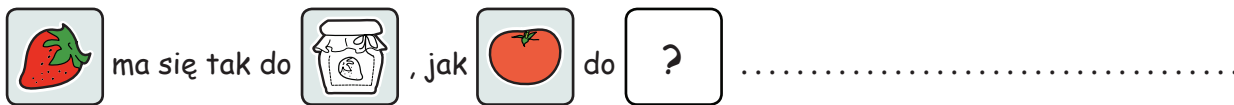
 ma się tak do , jak  do  .....  
 .....  
 .....

e)

 ma się tak do , jak  do  .....  
 .....  
 .....

1. Rozwiąż kolejne zagadki. Przy każdym znaku zapytania napisz, jaki obrazek tam pasuje. Niżej wyjaśnij, dlaczego tak uważasz.

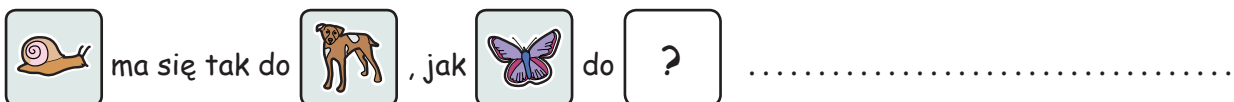
a)



b)



c)



2. Pora na zagadki o liczbach. Rozwiąż kolejne zagadki. W puste pole wpisz liczbę, która tam najlepiej pasuje. Niżej wyjaśnij, dlaczego tak uważasz.

a)



b)



c)



1. Rozwiąż kolejne zagadki. Przy każdym znaku zapytania napisz, jaki obrazek tam pasuje. Niżej wyjaśnij, dlaczego tak uważasz.

a)



ma się tak do



, jak



do



.....

b)



ma się tak do



, jak



do



.....


2. Spróbuj tę samą zagadkę rozwiązać na kilka różnych(!) sposobów.

Za każdym razem wyjaśnij, dlaczego wpisana liczba pasuje jako rozwiązanie zagadki.

a)



ma się tak do



, jak



do



b)



ma się tak do



, jak



do



c)



ma się tak do



, jak



do



d)



ma się tak do



, jak



do

