



1. Jeden z tych pięciu obrazków nie pasuje do pozostałych. Znajdź go i zaznacz.  
Niżej wyjaśnij, dlaczego ten właśnie obrazek nie pasuje do reszty.



.....

.....



.....

.....



.....


.....

2. Jedna z tych pięciu liczb nie pasuje do pozostałych. Znajdź ją i zaznacz.  
Obok wyjaśnij, dlaczego właśnie ta liczba nie pasuje do reszty.



.....

.....



.....

.....



.....

.....

1. Jeden z tych pięciu obrazków nie pasuje do pozostałych. Znajdź go i zaznacz.

Niżej uzasadnij, dlaczego ten właśnie obrazek nie pasuje do reszty.



.....

.....



.....

.....

2. Jedna z tych pięciu liczb nie pasuje do pozostałych. Znajdź ją i zaznacz.

Obok uzasadnij, dlaczego właśnie ta liczba nie pasuje do reszty.



.....

.....



.....

.....



.....

.....



.....

.....



.....

.....

1. Jedna z pięciu liczb nie pasuje do pozostałych. Znajdź ją i zaznacz.  
Poniżej uzasadnij, dlaczego właśnie ta liczba nie pasuje do reszty.

a) 

25	53	24	52	65
----	----	----	----	----

.....

.....

.....

b) 

64	43	97	86	31
----	----	----	----	----

.....

.....

.....

c) 

25	16	81	12	64
----	----	----	----	----

.....

.....

.....

d) 

16	18	12	24	20
----	----	----	----	----

.....

.....

.....

e) 

21	51	90	41	60
----	----	----	----	----

.....

.....

.....

1. Jedna z pięciu liczb nie pasuje do pozostałych. Znajdź ją i zaznacz.  
Poniżej uzasadnij, dlaczego właśnie ta liczba nie pasuje do reszty.

a) 

70	74	78	75	76
----	----	----	----	----

.....

.....

.....

b) 

61	43	97	25	34
----	----	----	----	----

.....

.....

.....

c) 

28	30	85	25	60
----	----	----	----	----

.....

.....

.....

d) 

36	18	12	27	54
----	----	----	----	----

.....

.....

.....

e) 

7	11	17	5	9
---	----	----	---	---

.....

.....

.....