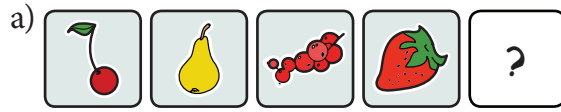


1. Te cztery obrazki coś łączy. Tylko jeden z trzech pozostałych obrazków do nich pasuje. Znajdź go i zaznacz. Niżej wyjaśnij, dlaczego to właśnie ten obrazek pasuje.



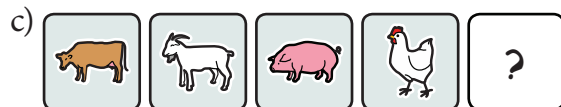
.....

.....



.....

.....



.....

.....

2. Te cztery liczby coś łączy. Tylko jedna z trzech pozostałych liczb do nich pasuje. Znajdź ją i zaznacz. Niżej wyjaśnij, dlaczego to właśnie tylko ta liczba pasuje.



.....

.....



.....

.....



.....

.....

1. Te cztery obrazki coś łączy. Tylko jeden z trzech pozostałych obrazków do nich pasuje. Znajdź go i zaznacz. Niżej wyjaśnij, dlaczego to właśnie ten obrazek pasuje.



.....

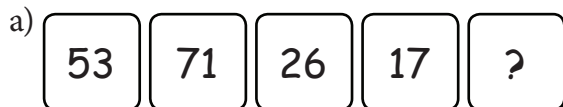
.....



.....

.....

2. Te cztery liczby coś łączy. Tylko jedna z trzech pozostałych liczb do nich pasuje. Znajdź ją i zaznacz. Niżej wyjaśnij, dlaczego to właśnie tylko ta liczba pasuje.



.....

.....



.....

.....



.....

.....



.....

.....

1. Te cztery liczby coś łączy. Tylko jedna z trzech pozostałych liczb do nich pasuje. Znajdź ją i zaznacz. Niżej wyjaśnij, dlaczego to właśnie tylko ta liczba pasuje.

a)

53	71	99	17	?
----	----	----	----	---

80	26	25
----	----	----

.....

.....

b)

50	70	90	15	?
----	----	----	----	---

62	4	25
----	---	----

.....

.....

c)

60	67	74	81	?
----	----	----	----	---

69	88	47
----	----	----

.....

.....

d)

12	23	89	45	?
----	----	----	----	---

65	56	32
----	----	----

.....

.....

e)

60	51	42	33	?
----	----	----	----	---

24	15	6
----	----	---

.....

.....

f)

5	10	20	40	?
---	----	----	----	---

60	80	35
----	----	----

.....

.....

1. Te cztery liczby coś łączy. Tylko jedna z trzech pozostałych liczb do nich pasuje. Znajdź ją i zaznacz. Niżej wyjaśnij, dlaczego to właśnie tylko ta liczba pasuje.

a)

51	72	99	18	?
----	----	----	----	---

80	26	24
----	----	----

.....

.....

b)

13	23	2	7	?
----	----	---	---	---

5	4	25
---	---	----

.....

.....

c)

60	56	52	48	?
----	----	----	----	---

66	88	47
----	----	----

.....

.....

d)

12	23	34	45	?
----	----	----	----	---

65	56	32
----	----	----

.....

.....

e)

65	55	75	35	?
----	----	----	----	---

20	15	60
----	----	----

.....

.....

f)

51	17	26	40	?
----	----	----	----	---

61	83	35
----	----	----

.....

.....