


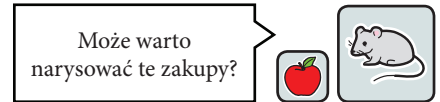


1. Rozwiąż zagadkę i uzupełnij cennik.

W pewnym sklepie sprzedawano owoce na sztuki.
Wszystkie owoce tego samego gatunku,
np. jabłka, kosztowały w tym sklepie po tyle samo.
Pierwszy klient kupił dwa jabłka i dwie gruszki
i zapłacił 5 zł.
Drugi kupił trzy gruszki i zapłacił 4,50 zł.
Trzeci kupił dwie kiście winogron, gruszkę i jabłko
i zapłacił 7,50 zł.
Jaka była cena tych owoców?

Cennik:

1		kosztuje
1		kosztuje
1		kosztuje



2. Wymyśl podobną zagadkę. Sprawdź, czy na pewno daje się rozwiązać.

.....

.....

.....

.....

.....

.....




.....

.....

1. Rozwiąż zagadkę i uzupełnij cennik.

W pewnym sklepie sprzedawano owoce na sztuki. Wszystkie owoce tego samego gatunku, np. jabłka, kosztowały w tym sklepie po tyle samo. Pierwszy klient kupił dwa jabłka i dwie kiście winogron i zapłacił 6,60 zł. Drugi kupił pięć jabłek i zapłacił o 10 groszy mniej od poprzednika. Trzeci kupił dwie gruszki i dwa jabłka i zapłacił 7 zł. Jaka była cena tych owoców?

Cennik:

1		kosztuje
1		kosztuje
1		kosztuje

2. Rozwiąż zadanie.

Janek za dwa modele samochodów i małego pluszowego misia zapłacił 25 zł. Ania za trzy takie misie zapłaciła 18 zł. A Piotr za model samochodu i helikopter zapłacił dwa razy więcej od Janka. Wszystkie modele samochodów były w tej samej cenie. Ile kosztowała każda z tych zabawek?

Może warto
zrobić rysunek?

