


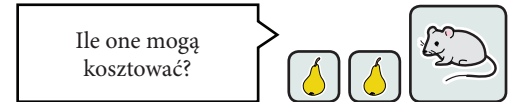


1. Rozwiąż zagadkę i uzupełnij cennik.

W pewnym sklepie sprzedawano owoce na sztuki. Wszystkie owoce tego samego gatunku, np. jabłka, kosztowały w tym sklepie po tyle samo. Pierwszy klient kupił dwa jabłka i dwie gruszki i zapłacił 8 zł. Drugi kupił cztery gruszki i dwa jabłka, a jego zakupy kosztowały 13 zł. Trzeci kupił dwie kiście winogron, gruszkę i jabłko i zapłacił 12 zł. Jaka była cena tych owoców?

Cennik:

1		kosztuje
1		kosztuje
1		kosztuje



2. Wymyśl podobną zagadkę. Sprawdź, czy na pewno daje się rozwiązać.

.....

.....

.....

.....

.....












.....

.....




.....

1. Rozwiąż zagadkę i uzupełnij cennik.




W sklepie sprzedawano owoce na sztuki.
Oto zakupy trzech klientów.
Jaka była cena tych owoców?

			5,50 zł		
					10 zł
			6 zł		

Cennik:

1 	kosztuje
1 	kosztuje
1 	kosztuje


Od czego zacząć?

2. Rozwiąż zadanie.










Dwie czekolady i cztery batony kosztują razem 13 zł.
A za cztery takie same czekolady i cztery takie same batony trzeba zapłacić 20 zł.
Ile kosztuje jedna czekolada, a ile jeden baton?

Od czego zacząć?






1. Rozwiąż zagadkę i uzupełnij cennik.










- a) W sklepie sprzedawano owoce na sztuki.
Oto zakupy trzech klientów.
Jaka była cena tych owoców?

			12 zł
			16 zł
			14 zł




Cennik:

1		kosztuje
1		kosztuje
1		kosztuje

- b) W sklepie sprzedawano owoce na sztuki.
Oto zakupy trzech klientów.
Jaka była cena tych owoców?

		4 zł			
		5,50 zł			
					11 zł

Cennik:

1		kosztuje
1		kosztuje
1		kosztuje